

Caro Vestibulando,

Você está recebendo uma prova temática, cujas questões estão relacionadas ao Estado do Ceará. Imagine que um cineasta está fazendo um documentário sobre esse Estado. Você assistirá a cenas que irão desde a ocupação em 1603 até o início do século XX. Em cada uma delas, o assistente fez uma pergunta ao diretor do filme. Colocando-se na posição do diretor, procure responder, corretamente, a cada uma delas.



APRESENTAÇÃO: VARIAÇÕES DO NOME

1. Para a apresentação do filme, o diretor pintou 5 placas com as letras do nome Ceará, sem considerar o acento agudo, formando o agrupamento de letras indicado na figura abaixo.



Sempre que se troca a posição de placas, é feito um novo agrupamento, exceto quando se trocam duas placas que contêm a mesma letra. Qual o número total de agrupamentos distintos possíveis?

- A) 20
- B) 30
- C) 40
- D) 50
- E) 60



BRASÃO DO ESTADO DO CEARÁ

NO SÉCULO XIX, FOI CRIADO O BRASÃO DO CEARÁ



O Brasão é composto por um campo verde dividido, sendo um lado semeado de estrelas e outro ocupado por um pássaro de cor branca.

Na figura oval, estão a enseada do Mucuripe, o farol, uma jangada e uma carnaúba na praia, iluminados pelo Sol nascente.

Sobre o escudo, aparece uma fortaleza antiga.

2. A partir do texto acima, marque a alternativa correta.
- A) O pássaro é visto com a cor branca porque refrata a luz branca.
 - B) Se a figura oval fosse uma elipse, todos os pontos do contorno branco da elipse distariam igualmente do centro.
 - C) A enseada do Mucuripe poderia ser chamada de golfo do Mucuripe.
 - D) Carnaúba cearense produz uma cera que diminui a transpiração excessiva que ocorre em ambientes com longos períodos de estiagem e com baixa umidade relativa.
 - E) A Fortaleza de Nossa Senhora da Assunção foi construída às margens do rio Ceará.



PRIMEIRA OCUPAÇÃO

O nome Ceará, que passou de rio à capitania em 1789, à província em 1822, a Estado em 1889, é de origem incerta, sendo escrito com S (Seara, Siara, Syara) e depois com C (Ciará e Ceará). Para o historiador João Brígido, Ceará seria uma deturpação do tupi *siri-ará* (*siri*, no idioma guarani é andar para trás; e *ará*, branco), que significa “caranguejo branco”.

3. O caranguejo é uma espécie viva com classificação idêntica a:
- A) ostra e peixe-boi.
 - B) peixe-boi e pargo.
 - C) salmão ou tilápia.
 - D) camarão e pargo.
 - E) lagosta ou tilápia.



PINZÓN NO CEARÁ

4. Segundo alguns historiadores, o espanhol Vicente Pinzón teria chegado ao Ceará em fevereiro de 1500, primeiro em Ponta Grossa, município de Aracati, e depois no Mucuripe, em Fortaleza. A viagem de Pinzón, de Aracati a Fortaleza, foi:
- A) ao norte do Equador.
 - B) sobre a linha do Equador.
 - C) afastando-se da linha do Equador.
 - D) aproximando-se da linha do Equador.
 - E) numa direção paralela à linha do Equador.



A VISITA DE MARTIM SOARES MORENO

5. Segundo alguns historiadores, Martim Soares Moreno fundou na barra do rio Ceará o Forte de São Sebastião, em 1611. Soares Moreno foi personagem de um dos livros mais importantes do indianismo brasileiro, que narra o amor entre uma índia e um colonizador. O autor dessa obra foi:
- A) Machado de Assis.
 - B) Rui Barbosa.
 - C) José de Alencar.
 - D) Juvenal Galeno.
 - E) Graciliano Ramos.



MARTIM SOARES MORENO E OS ÍNDIOS

6. Imagine que Soares Moreno, ao chegar numa aldeia, observou 20 índios com a cor verde pintada em seu corpo, 30 índios com a cor azul pintada em seu corpo e 10 índios com as cores azul e verde. Qual o total de índios?
- A) 20
 - B) 30
 - C) 40
 - D) 50
 - E) 60



A PRESENÇA DOS HOLANDESES NO CEARÁ

7. Os holandeses invadiram e ocuparam o Nordeste brasileiro duas vezes: na Bahia, de 1624 a 1625, e em Pernambuco, de 1630 a 1654. Após serem expulsos da Bahia, estenderam seu domínio para outras capitanias como Alagoas, Paraíba, Rio Grande do Norte e Ceará. Admitindo que o período de ocupação na Bahia foi de exatos 12 meses e, em Pernambuco, foi de 288 meses, pode-se dizer que o período em Pernambuco foi maior do que aquele na Bahia em:
- A) 2.000%
 - B) 2.100%
 - C) 2.200%
 - D) 2.300%
 - E) 2.400%



ECONOMIA CEARENSE DA COLÔNIA (AONDE O BOI VAI O HOMEM VAI ATRÁS)

8. Conforme relata a historiografia brasileira, a pecuária constituía-se no Período Colonial de atividade secundária da cana-de-açúcar, cujo cultivo se dava, sobretudo, no litoral da Zona da Mata nordestina. O boi tinha a função de fornecer carne, força de tração e transporte para a região produtora de açúcar. Com o tempo, o gado passou a ser conduzido para o interior do Nordeste, possibilitando, assim, a ocupação dessa região. Para uma boa saúde, é aconselhável:
- A) comer muita carne de boi com pouco sal e muito açúcar.
 - B) comer muita carne de boi com muito sal e pouco açúcar.
 - C) comer pouca carne de boi com muito sal e muito açúcar.
 - D) comer pouca carne de boi com pouco sal e pouco açúcar.
 - E) comer muita carne de boi com muito sal e muito açúcar.



A CARNE SECA

9. Nas longas caminhadas, do sertão para o litoral, o gado emagrecia, a ponto de ficar imprestável para o abate. Havia também prejuízos decorrentes de assalto, ataques de animais selvagens e perdas. Por isso, os fazendeiros do litoral passaram a vender sua matéria-prima já industrialmente preparada, reduzida a carne a mantas conservadas pelo sal e capazes de resistir sem deterioração a longas viagens. A carne mantinha-se conservada porque o sal:
- A) quando misturado com a água contida na carne, baixava a temperatura proporcionando a conservação.
 - B) transformava a carne em um meio favorável à ação de enzimas responsáveis pela conservação.
 - C) formava uma camada protetora sobre a carne isolando-a completamente do ambiente.
 - D) com suas propriedades higroscópicas, hidratava a carne evitando a deterioração.
 - E) transformava a carne em meio desfavorável à proliferação de microrganismos e à ação das enzimas responsáveis pelas suas alterações naturais.



O ALGODÃO

10. O algodão já era cultivado pelo índio antes da chegada dos portugueses. Com a colonização, passou a fazer parte da economia de subsistência em todo o Brasil, como matéria-prima doméstica de tecidos para os mais pobres e especialmente para os escravos. A Guerra da Independência dos Estados Unidos (1774-1783) – então o grande produtor mundial de algodão – também contribuiu para a expansão da cotonicultura brasileira, destacando-se o Maranhão, o Ceará, Pernambuco e, em menor grau, a Bahia e a Paraíba. Após a Guerra da Independência dos EUA, tivemos:
- A) os EUA independentes de seus colonizadores franceses.
 - B) a elaboração da Constituição dos EUA (a primeira constituição política escrita de um país).
 - C) os EUA formados por Estados totalmente dependentes do poder central.
 - D) a Inglaterra possuindo os EUA como colônia.
 - E) o parlamentarismo instalado nos EUA.



SEPARAÇÃO DE PERNAMBUCO

11. Com a separação de Pernambuco, o Ceará passou a ser administrado por governadores nomeados em Lisboa. Até 1821, foram cinco governantes. Esses governantes foram nomeados por um governo:
- A) presidencialista.
 - B) parlamentarista.
 - C) monárquico.
 - D) comunista.
 - E) socialista.



A “REVOLUÇÃO” PERNAMBUCANA DE 1817 E O CEARÁ

12. Em 1817, a elite pernambucana, diante da crise econômica do Nordeste, do domínio comercial luso, do quadro de miséria e da influência iluminista das Revoluções Francesa e Norte-Americana, revoltou-se contra Portugal e iniciou um movimento visando à Independência do Brasil e à Proclamação da República. Graças à influência de três ilustres cearenses, o Cariri aderiu ao episódio. Tais cearenses foram:
- A) Bárbara de Alencar, José Martiniano de Alencar e Tristão Gonçalves.
 - B) Bárbara de Alencar, José Martiniano de Alencar e Pessoa Anta.
 - C) Jovita Feitosa, José Martiniano de Alencar e Tristão Gonçalves.
 - D) Bárbara de Alencar, José Albano e Tristão Gonçalves.
 - E) Pessoa Anta, Jovita Feitosa e José Albano.



A INDEPENDÊNCIA DO BRASIL E DO CEARÁ

13. A independência brasileira repercutiu no Ceará. O governador Francisco Alberto Rubim foi praticamente obrigado a renunciar, assumindo Francisco Xavier Torres, que realizou eleições para representantes cearenses na Assembléia Constituinte portuguesa. Quanto à Independência do Brasil, podemos dizer que:
- A) teve Tiradentes como seu executor.
 - B) teve Duque de Caxias como seu idealizador.
 - C) teve Conde d'Eu como seu executor.
 - D) teve José Bonifácio como seu idealizador.
 - E) teve Tiradentes e D. Pedro I como seus idealizadores e executores.



A CONFEDERAÇÃO DO EQUADOR E O CEARÁ

14. Em 1824, estourou em Pernambuco, propagando-se para os outros Estados nordestinos, a Confederação do Equador, um movimento que se propunha liberal, separatista e republicano. O Ceará aderiu ao movimento devido à influência pernambucana. Sobre as denominações liberal, separatista e republicana, é correto afirmar.
- A) Hugo Chávez é liberal.
 - B) A Guerra dos Farrapos foi um movimento separatista.
 - C) O governo cubano é republicano.
 - D) Um governo republicano nunca pode ser liberal.
 - E) Um movimento separatista é sempre liberal.



ESCRAVISMO E A ABOLIÇÃO DO CEARÁ

15. O Ceará foi pioneiro da abolição da escravatura negra. Existia para esse Estado um pequeno tráfico negreiro, sobretudo vindo de Recife e São Luís. A abolição, no Ceará, ocorreu em 25 de março de 1884 com a promulgação de uma lei pelo então presidente do Estado, Sátiro de Oliveira, antes do resto do País.

Se um escravo negro casasse com uma escrava negra, o filho:

- A) seria negro.
- B) não seria negro.
- C) não poderia ser branco.
- D) poderia ser branco.
- E) não poderia ser moreno.



A OLIGARQUIA ACCIOLINA E O CEARÁ

16. O século XX, para o Ceará, foi marcado pelos ciclos de poder dos “coronéis” e por enormes transformações de ordem social e econômica. O século se iniciou no contexto da oligarquia acciolina, comandada, direta ou indiretamente, por Nogueira Accioly, de 1896 a 1912. Durante esse período, a família Accioly controlou, literalmente, todas as esferas do poder cearense, desde os altos escalões do Governo estadual até as delegacias. Tal monolitismo só acabou graças à chamada Sedição de Juazeiro de 1912. Marque a alternativa correta.

- A) A oligarquia acciolina foi a única existente no Ceará.
- B) Se a grafia do nome Accioly passasse a ser Asioly, sua pronúncia seria a mesma.
- C) Se Nogueira Accioly fosse o atual governador do Ceará, pertencendo ao atual partido de Cid Gomes, ele seria do mesmo partido de Luizianne Lins.
- D) Admitindo que a Rua Nogueira Accioly é perpendicular à Avenida Santos Dumont e está na direção norte-sul, a direção de uma rua paralela à Santos Dumont forma um ângulo agudo de 90° com a direção nordeste-sudoeste.
- E) Admitindo que a Rua Nogueira Accioly é perpendicular à Avenida Santos Dumont e está na direção norte-sul, a direção de uma rua paralela à Santos Dumont forma um ângulo agudo de 45° com a direção nordeste-sudoeste.



O HINO DO CEARÁ

O Hino do Estado do Ceará nasceu a partir da decisão de intelectuais cearenses quando resolveram festejar os trezentos anos da fundação do Ceará, ocorrida em 31 de julho de 1603. O Hino do Ceará foi executado pela primeira vez no dia 31 de julho de 1903.

17. Com relação ao Hino do Ceará, podemos afirmar corretamente que a sua criação ocorreu no:

- A) tricentésimo aniversário da fundação do Ceará.
- B) tricentenário aniversário da fundação do Ceará.
- C) trigésimo aniversário da fundação do Ceará.
- D) trigentenário aniversário da fundação do Ceará.
- E) trienário aniversário da fundação do Ceará.




O HINO DO CEARÁ – LETRA – I

Terra do sol, do amor, terra da luz!
Soa o clarim que a tua glória conta!
Terra, o teu nome a fama aos céus remonta
Em clarão que seduz!
Nome que brilha – esplêndido luzeiro
Nos fulvos braços de ouro do cruzeiro!

18. O metal nobre ouro é apresentado na Tabela Periódica de acordo com a figura abaixo, onde *Aurum* é a grafia de sua origem em latim, 79 é o seu número atômico e 196,97 é a sua massa atômica. Considere um átomo de ouro neutro.

Se você deseja formar um triângulo cujos lados são expressos em centímetros, um com o número de prótons do átomo de ouro, outro com o número de elétrons e outro com o número de massa, podemos corretamente dizer que o triângulo é:

- A) escaleno.
- B) isósceles.
- C) equilátero.
- D) retângulo.
- E) inexistente.



O HINO DO CEARÁ – LETRA – II

19. Com relação à luz emitida pelo Sol, marque a alternativa correta.

- A) A luz oriunda do Sol viaja à mesma velocidade do som que sai do clarim.
- B) A luz oriunda do Sol viaja com uma velocidade superior à do som que sai do clarim.
- C) A luz oriunda do Sol viaja com uma velocidade inferior à do som que sai do clarim.
- D) A luz oriunda do Sol é monocromática amarela.
- E) A luz oriunda do Sol propaga-se como uma onda mecânica.



O HINO DO CEARÁ – LETRA – III

20. O Ceará é chamado de Terra do Sol devido à alta incidência de energia solar sobre a sua superfície. A intensidade média dessa energia é $2 \times 10^2 \text{W/m}^2$. Suponha dois coletores de energia solar, cuja área útil de captação de cada um é de 18m^2 . Se eles forem usados na geração de energia elétrica para iluminar uma pequena vila, quantas casas poderiam ser iluminadas, simultaneamente, se cada uma possui apenas 10 lâmpadas de 60W?

- A) 4
- B) 6
- C) 8
- D) 10
- E) 12



O HINO DO CEARÁ – LETRA – IV

“Soa o clarim que a tua glória conta!”

21. Para uma questão de acomodação, alguns termos das frases aparecem invertidos, como é o caso do verso acima.

A ordem direta deles é:

- A) Soa que a tua glória conta o clarim.
- B) O clarim soa que a tua glória conta.
- C) O clarim que conta a tua glória soa.
- D) Soa a tua glória que conta o clarim.
- E) A tua glória soa que o clarim conta.



O HINO DO CEARÁ – LETRA – V

22. Se o som que sai do clarim até o ouvinte for agudo, ele se propaga como uma onda:
- A) eletromagnética transversal de alta frequência.
 - B) eletromagnética longitudinal de baixa frequência.
 - C) mecânica transversal de baixa frequência.
 - D) mecânica longitudinal de alta frequência.
 - E) eletromecânica transversal de baixa frequência.



O HINO DO CEARÁ – LETRA – VI

Mudem-se em flor as pedras dos caminhos!
Chuvas de pratas rolem das estrelas...
E despertando, deslumbrada ao vê-las,
Ressoe a voz dos ninhos...
Há de florar nas rosas e nos cravos
Rubros o sangue ardente dos escravos.

23. Podemos afirmar corretamente que os termos **mudem** e **rolem** estão no plural porque referem-se, respectivamente:
- A) às pedras e às chuvas.
 - B) às chuvas e aos cravos.
 - C) às pratas e às estrelas.
 - D) aos cravos e às rosas.
 - E) às estrelas e aos cravos.



O FENÔMENO PADRE CÍCERO

24. Em relação ao fenômeno Pe. Cícero, podemos dizer que:
- A) seu principal inimigo político foi Floro Bartolomeu.
 - B) foi enaltecido pelo comando da Igreja Católica em Roma.
 - C) viajou de Juazeiro a Roma para se defender de acusações, empreendendo uma viagem do sul do Ceará ao norte da Europa.
 - D) ainda hoje é reverenciado nos festejos ligados a São Francisco de Assis.
 - E) ao contrário de Antônio Conselheiro em Canudos, aliou-se aos políticos do Cariri e até à oligarquia acciolina.



O CEARÁ GETULISTA

25. Com a Era Vargas, extinguiram-se o cangaço e os movimentos messiânicos nordestinos. Para isso, contribuíram o aumento da repressão, a migração de nordestinos para indústrias do Centro-Sul e a maior integração do Nordeste com o resto do País. Getúlio Vargas suicidou-se com um tiro no peito. A bala que o matou deslocou-se devido a um processo onde ocorreu transformação de energia química em energia:
- A) sonora, cinética e elétrica.
 - B) cinética, térmica e elétrica.
 - C) térmica, sonora e elétrica.
 - D) cinética, sonora e térmica.
 - E) sonora, térmica e eólica.



O CALDEIRÃO

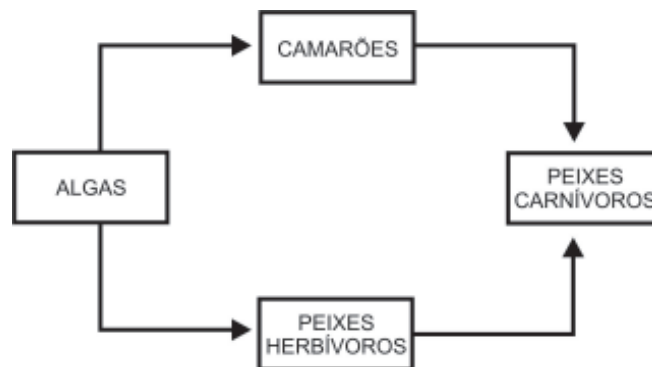
26. Canudos, Caldeirão, Pau de Colher, todos movimentos camponeses, todos destruídos. Milhares de pessoas mortas pelo “crime” de terem sonhado de libertar-se da servidão e da miséria impostas pelo latifúndio. Marque a alternativa correta.
- A) A fazenda Caldeirão tinha esse nome por lembrar uma enorme caldeira onde a água ferve a 80°C.
 - B) Uma colher de pau inserida numa caldeira quente conduz calor melhor que uma colher metálica.
 - C) Ao tomarmos líquidos através de canudos de plástico, o líquido sobe por diferença de pressão.
 - D) O Movimento do Caldeirão originou o livro *Os Sertões*.
 - E) O Movimento de Canudos foi liderado por Pe. Cícero.



JK E O CEARÁ

27. Um dos maiores benefícios que Juscelino Kubitschek deu ao Estado do Ceará foi a construção do açude Orós, proporcionando a perenização do rio Jaguaribe, que viabilizou a agricultura irrigada.

A cadeia alimentar no açude Orós manifesta-se de acordo com o diagrama abaixo.



Por ignorância do dono do açude, uma grande quantidade de inseticida foi jogada nas águas do açude. Após alguns dias, foi realizado um estudo na população do açude para avaliar o impacto do derramamento de inseticida nele. Desse estudo, conclui-se que:

- A) o maior teor de inseticida foi encontrado nos peixes herbívoros.
- B) peixes carnívoros e camarões apresentaram maior acúmulo de inseticida.
- C) somente as algas acumularam inseticida.
- D) o maior teor de inseticida foi encontrado nos peixes carnívoros.
- E) nenhum animal da cadeia acumulou inseticida.



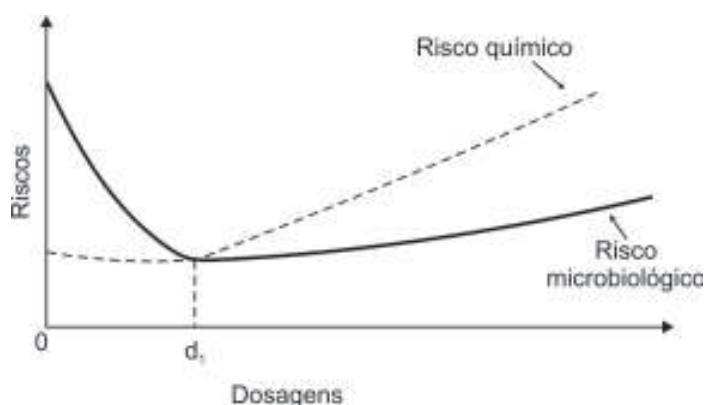
O CEARÁ NA DITADURA MILITAR

28. Vitorioso, o Movimento de março de 1964 mergulhou o País numa Ditadura Militar, que se estendeu até 1985. Marque a alternativa correta.
- A) Castelo Branco era cearense e foi o segundo presidente do Movimento de 64.
 - B) O presidente deposto pela revolução nasceu no Rio Grande do Sul, Estado que faz fronteira com São Paulo.
 - C) Os primeiros deslocamentos de tropas no Movimento de 64 se deram em Minas Gerais, Estado situado na região Sul.
 - D) Os governadores cearenses no período revolucionário estabeleceram o chamado Ciclo dos Generais.
 - E) Adauto Bezerra, um dos governadores no período dos militares, é oriundo da região Sul do Ceará.



CANAL DO TRABALHADOR

29. A grande obra de Ciro Gomes foi o Canal do Trabalhador, construído na seca de 1992, em apenas três meses, utilizando a mão-de-obra de 5.000 homens para trazer a água do rio Jaguaribe para Fortaleza, onde é devidamente tratada com cloro para permitir o consumo humano. Imagine o seguinte gráfico, que descreveria o risco químico e o risco microbiológico à saúde humana, em função da dosagem de cloro aplicada à água.



A partir da leitura desse gráfico, é correto afirmar que:

- A) o risco microbiológico decresce com o aumento das dosagens.
- B) o risco químico cresce com o aumento das dosagens.
- C) a dosagem ideal de cloração da água ocorre no valor d_1 .
- D) a dosagem ideal de cloração da água ocorre no valor maior que d_1 .
- E) a dosagem ideal de cloração da água ocorre em um valor menor que d_1 .



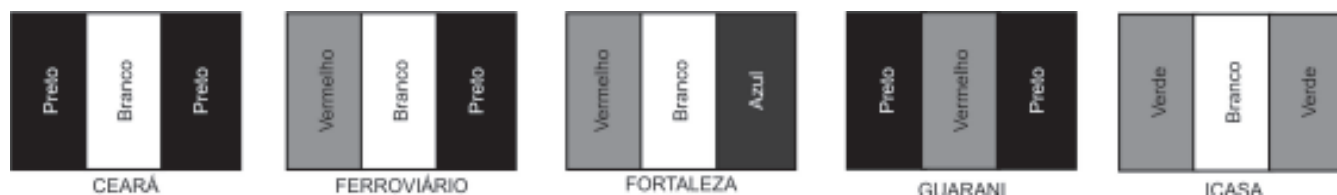
O CEARÁ NO BRASIL

30. Suponha que cinco aviões saem de Fortaleza no mesmo momento, com velocidades médias iguais, percorrendo as menores distâncias possíveis, com destinos diferentes, sem escala. O que chegaria mais rápido ao final da viagem seria aquele que se destinava:
- A) a Palmas.
 - B) ao Rio de Janeiro.
 - C) a Manaus.
 - D) a Porto Alegre.
 - E) a Santa Catarina.



O FUTEBOL CEARENSE

31. As bandeiras apresentadas abaixo são dos times Fortaleza, Ceará, Icasa, Guarani e Ferroviário e foram colocadas em um ambiente completamente escuro.



Após todas iluminadas com uma luz monocromática azul, um observador no quarto escuro verá:

- A) uma bandeira multicolorida.
- B) duas bandeiras com cores distintas.
- C) três bandeiras com cores distintas.
- D) quatro bandeiras com cores iguais.
- E) cinco bandeiras com cores iguais.



O CEARÁ DE HOJE I

32. Nos jornais *Diário do Nordeste* e *O Povo* de ontem, liam-se as seguintes notícias, respectivamente:
- NOTÍCIA 1 - "Há um radialista que inicia seu programa assim: 'Bom-dia, Ceará! Bom-dia, Brasil! Bom-dia, Planeta!'. Esse menino vai longe" (Coluna da jornalista Regina Marshall).
- NOTÍCIA 2 - "Japão doa dinheiro ao Ceará" (Coluna do jornalista Jocélio Leal).
- Marque a alternativa correta.
- A) A saudação da notícia 1 é verdadeira porque se o bom-dia foi ouvido no Ceará de manhã, será ouvido em todo o planeta antes do meio-dia do local.
 - B) Se a remessa de dinheiro, citada na notícia 2, saiu de Tóquio ao meio-dia de lá, vindo ao Ceará por meio da Internet e gastando 5 minutos para a transmissão, ela chegará aqui no início da tarde do mesmo dia.
 - C) Se a remessa de dinheiro, citada na notícia 2, saiu de Tóquio ao meio-dia de lá, vindo ao Ceará por meio da Internet e gastando 5 minutos para a transmissão, ela chegará aqui no início da noite do mesmo dia.
 - D) Se a remessa de dinheiro, citada na notícia 2, saiu de Tóquio ao meio-dia de lá, vindo ao Ceará por meio da Internet e gastando 5 minutos para a transmissão, ela chegará aqui na madrugada do mesmo dia.
 - E) A saudação da notícia 1 é falsa porque se um ouvinte recebe um bom-dia no Ceará de manhã, neste instante, um habitante do hemisfério norte deverá receber bom-dia e um do hemisfério sul boa-tarde.



O CEARÁ DE HOJE II

33. A principal notícia do jornal *O Povo* de ontem foi:
- "TREINAMENTO DE SOLDADOS CEARENSES É O MENOR DO NORDESTE".
- O Curso de Formação de Soldados do Ceará tem a menor carga horária (715 horas/aula) e o menor tempo de duração (3 meses) entre os Estados do Nordeste.
- Marque a alternativa correta.
- A) O número de Estados do Nordeste é o mesmo número do índice que caracteriza o pH de uma substância que nem é ácido nem base.
 - B) O número de Estados do Nordeste não é múltiplo do número de meses de treinamento dos soldados.
 - C) O número de Estados do Nordeste é divisor do número de horas/aula da carga horária do Curso de Formação dos Soldados.
 - D) Uma substância com pH caracterizado pelo mesmo número de Estados do Nordeste seria uma base.
 - E) Uma substância com pH caracterizado pelo mesmo número de Estados do Nordeste seria um ácido.



O CEARÁ DE HOJE III

34. Na eleição passada para governador, Patrícia Saboya Gomes apoiava Luizianne que apoiava Cid que é irmão de Ciro que é muito amigo de Tasso que talvez apoie Patrícia para a Prefeitura que será apoiada por seu ex-marido, Ciro, que é irmão de Cid que apoiará Luizianne para a reeleição à Prefeitura.
- Marque a alternativa correta.
- A) Luizianne pertence ao mesmo partido de Renan Calheiros.
 - B) Inácio Arruda declarou que votaria contra Renan Calheiros no recente episódio.
 - C) Patrícia Saboya Gomes que saiu do PSB para o PDT e Tasso que é do PSDB votaram contra Renan.
 - D) Ciro Gomes do PSB não aspira à Presidência da República.
 - E) Caso Cid Gomes deseje não poderá se reeleger, pois a legislação é contrária à reeleição de governador.



A GEOGRAFIA DO CEARÁ

35. Qual dos seguintes mapas melhor representa a situação físico-geográfica do Estado do Ceará?



All questions should be answered according to the text below.

PUBLIC POLICIES AND THE VUNERABILITY OF RURAL MAN IN CEARÁ

1 Poverty in the state of Ceará is deeply rooted. The rural population is highly vulnerable to frequent and
 2 extended droughts. These droughts have inflicted much suffering, and public emergency measures have been
 3 launched without previous planning which could have systematically provided the short, medium, and long-term
 4 responses necessary to reduce the excessive vulnerability of the rural inhabitant.

5 Vulnerability in Ceará is a consequence not only of climate patterns, but also of the socioeconomic
 6 characteristics of a highly marginalized population. For more than fifty years, local, state and federal governments
 7 have sought a means of reducing the cruel impact of drought, largely without success. So far, the major public
 8 response to the suffering and social unrest associated with droughts has focused on emergency food handouts,
 9 water distribution, and publicworks employment.

10 However, the permanent reduction of vulnerability requires a policy effort in the areas of education,
 11 agrarian reform, production credit, technical assistance, and programs to increase non-agricultural income. At the
 12 same time, **such policies** will require enhanced capacities for planning at local levels, part of an overall effort to
 13 decentralize policy-making. Improved local planning can provide a general model for socioeconomic development
 14 in this semi-arid environment.

MAYORGA, D. , Maria Irlés de Oliveira Mayorga, M. I. O., Melo, C. S. & Folhes, M. T. *Public policies and the vunerability of rural man in the State of Ceará, Brazil*. The 2001 Open Meeting - Human Dimensions of Global Environmental Change: Rio de Janeiro, October 6-8, 2001.

HELPING VOCABULARY

rooted: enraizado

drought: seca

launched – to launch: lançar

sought – seek: procurar

public policy: política pública

enhanced: aumentado

36. Poverty in the state of Ceará is deeply rooted due to:

- A) inflicted suffering.
- B) frequent and extended droughts.
- C) public emergency measures.
- D) the short, medium, and long-term responses.
- E) the excessive vulnerability of the rural inhabitant.

37. The excessive vulnerability of the rural inhabitant could be reduced with:

- A) systematic responses.
- B) public emergency measures.
- C) previous short, medium, and long-term planning.
- D) less frequent and extended droughts.
- E) changes in the climate patterns.

38. What makes Ceará vulnerable?

- A) Both the climate patterns and the socioeconomic characteristics of the state.
- B) Both the state and the federal governments.
- C) The presence of a highly marginalized population.
- D) Either the state or the federal government.
- E) Either the climate patterns or the socioeconomic characteristics of the state.

39. Local, state and federal governments have:

- A) not tried to reduce the cruel impact of drought.
- B) not marginalized the population affected by droughts.
- C) not succeeded in reducing the impact caused by droughts.
- D) never responded to the problems caused by droughts.
- E) never focused on emergency food handouts, water distribution, and publicworks employment.

40. On line 12, **such policies** refer to:

- A) the permanent reduction of vulnerability.
- B) efforts in education, agrarian reform, production credit, technical assistance, and programs to increase non-agricultural income.
- C) enhanced capacities for planning at local levels.
- D) a general model for socioeconomic development in this semi-arid environment.
- E) an overall effort to decentralize policy-making.

ESPANHOL

LAS SEQUÍAS EN EL NORDESTE

1 La región Nordeste de Brasil se ha visto afectada por las sequías desde tiempos inmemoriales.
2 Sin embargo, han sido anotadas como un fenómeno natural inevitable, generando un discurso unificado de
3 victimización. Este discurso ha sido muy bien aprovechado por las élites brasileñas para su fortalecimiento político,
4 social y económico, así como también, para el establecimiento – casi por inercia – de políticas públicas de
5 carácter paliativo. Sin embargo, gracias al avance tecnológico, se sabe ahora que la ocurrencia de las sequías
6 está ligada a fenómenos como El Niño y el Dipolo del Atlántico (calentamiento/enfriamiento del Atlántico Norte/Sur).

7 Los gobiernos han demostrado una preocupación mayor por actuar en esta región principalmente en el
8 periodo de sequía. En los años en que **esta** no se produce las acciones gubernamentales son limitadas. En época
9 de sequía, cuando existe la amenaza de una mortalidad elevada, el gobierno abre programas de frentes de
10 emergencia destinados a la redistribución de ingresos, las llamadas “frentes de trabajo”. Estos programas satisfacen
11 necesidades físicas y sociales a medida que se crea la fuerza de trabajo, ya que absorbe a los refugiados
12 desempleados y se compromete con la construcción de represas y pozos, pero no afecta significativamente los
13 efectos del desastre. El número de personas atendidas ha ido en aumento, lo que demuestra un agravamiento del
14 problema. Estas medidas tomadas por los gobiernos han sido, por tanto, de carácter meramente paliativo, originando
15 dependencia de la población, y no medidas de mitigación que busquen soluciones de largo plazo, basadas en la
16 educación, la concienciación y la participación activa de la población.

Texto adaptado de la *Red de Estudios Sociales en Prevención de Desastres en América Latina*.
www.desenredando.org

36. Según las informaciones del texto, se puede afirmar que la sequía:

- A) debe enfrentarse con políticas públicas paliativas.
- B) ha contribuido para la mantención del dominio socio-político de las élites.
- C) induce el calentamiento y enfriamiento de las aguas del Atlántico.
- D) se la consideran una amenaza natural inevitable, en los días actuales.
- E) es un fenómeno relativamente reciente provocado por El Niño.

37. Sobre los comentarios del autor acerca de los programas de “Frente de Trabajo”, es correcto afirmar que:

- A) son eficientes en el combate de los efectos de la sequía.
- B) atienden a las necesidades de subsistencias de la población.
- C) acentúan la vulnerabilidad y las condiciones de pobreza de la población.
- D) evitan, a través de la redistribución de ingresos, la pauperización.
- E) contribuyen eficazmente para mejorar la calidad de vida de los refugiados.

-
38. El texto informa que ante el problema de la sequía, los gobiernos:
- A) siguen tomando decisiones que sólo atenúan sus graves efectos.
 - B) invierten en programas que generan una dependencia de la población.
 - C) han adoptado medidas educativas para el enfrentamiento de la situación.
 - D) buscan, a través de sus programas, solucionar definitivamente el problema.
 - E) han hecho inúmeros esfuerzos, a lo largo de los años, para reducir sus efectos.
39. Según el texto, “medidas de mitigación” (línea 15) son medidas que _____ los efectos de la sequía.
- A) agrandan
 - B) extinguen
 - C) disminuyen
 - D) intensifican
 - E) incrementan
40. El vocablo “esta” (línea 8) se refiere, en el texto, a:
- A) época.
 - B) sequía.
 - C) región.
 - D) mortalidad.
 - E) preocupación.

BIBLIOGRAFIA

Farias, Airton de. *História do Ceará: dos índios à geração cambeba*. Fortaleza: Tropical, 1997.